

Kdo má víc?

Ověřeno dne 30. 1. 2013

Eva Ždímalová

Finanční gramotnost

1. ročník

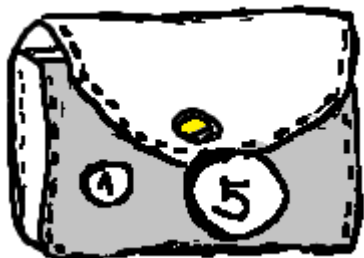
20 – 25 minut

Žáci počítají peníze v peněženkách (do 10Kč) a porovnávají, kdo má více nebo méně a o kolik.

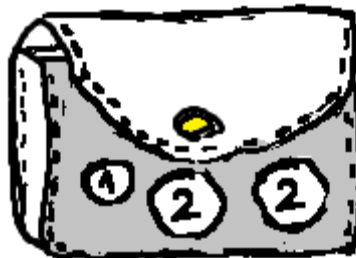
Obrázky vytvořil pomocí tabletu Jiří Macoun.

Kdo má víc?

Ema: 6 Kč



Pavel: 5 Kč



6 > 5 o 1

Vanesa: ___ Kč



Julek: ___ Kč

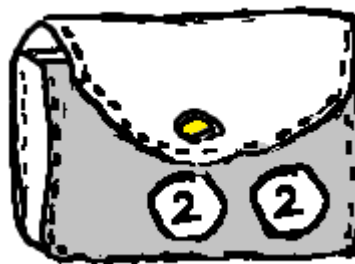


_____ o _____

Kája: ___ Kč



Ola: ___ Kč



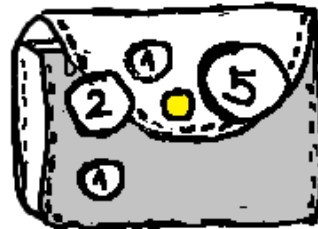
_____ o _____

Sylva: ___ Kč

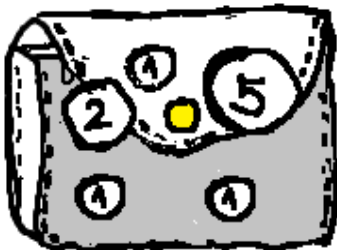


_____ 0 _____

Míla: ___ Kč

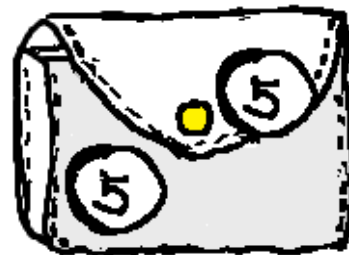


Zuzana: ___ Kč



_____ 0 _____

Slávek: ___ Kč



Dan: ___ Kč



_____ 0 _____

Pavla: ___ Kč

