

Skupinová práce žáků při procvičování učiva v matematice

Autor: Iva Ledvinková

Šablona: 42, matematická gramotnost

Téma: Zápis zlomků pomocí desetinných čísel - 7.17










Ročník: 7.

Časová náročnost: 10 minut

Metodický návod:

Každá skupina žáků dostane k dispozici obálku se zadáním (9 kartiček s příklady + klíč) a výsledkovou tabulku. Žáci si příklady rozdělí, samostatně vypočítají a výsledek zapíšou na příslušné místo do připravené tabulky. Po doplnění všech políček pomocí klíče ověří správnost svých výpočtů, společně ve skupině nebo za pomoci učitele naleznou chyby a opraví si je.

Výsledková tabulka

Matematika - 7. ročník

Zápis zlomků pomocí desetinných čísel - 7.17

ZADÁNÍ

$\frac{7}{4}$ ■	$\frac{17}{20}$ ●	$6\frac{59}{200}$ ☺
$\frac{11}{2}$ □	$\frac{11}{40}$ ○	$\frac{43}{50}$ ☺
$4\frac{7}{8}$ ■	$2\frac{9}{25}$ ◐	$7\frac{235}{1000}$ ☀
Kontrola: 7.17 a) Utvoř součty sloupců. b) Výsledky sečti. c) Kontrolní číslo: 30.		

ŘEŠENÍ

1,75 ■	0,85 ●	6,295 ☺	
5,5 □	0,275 ○	0,86 ☺	
4,875 ■	2,36 ◐	7,235 ☀	
Kontrola: 7.17			
12,125	3,485	14,39	<u>30</u>