

Název: **Matematika 4. ročník - 1. čtvrtletí**



Autor: Dagmar Kozubová

Vhodné zařazení: předmět: matematika


třída: 4. ročník

Časová náročnost: 35 - 40 min.

Metodické poznámky:

- Žáci si procvičují učivo matematiky za první čtvrtletí
- Žáci pracují dle pokynů v každém cvičení
- Jsou dvě úrovně pracovních listů – jeden je označen symbolem  , druhý symbolem 
- součástí je list s řešením

Datum ověření: 14.11. 2012 (4.A)



## Matematika 4. ročník - 1. čtvrtletí

a) *Sčítej a odčítej.*

386	457	285	329	873	925	741	653
<u>512</u>	<u>266</u>	<u>178</u>	<u>610</u>	- <u>613</u>	- <u>472</u>	- <u>690</u>	- <u>135</u>

b) *Vyřeš slovní úlohu.*

Maminka koupila Lindě svetr za 680 Kč a tričko za 250 Kč. Kolik korun jí zbylo, když měla 1000 Kč?

Zápis \_\_\_\_\_ Výpočet \_\_\_\_\_

---

---

---

---

c) *Zaokrouhli čísla na stovky.*

578	612	123	794	835	257	461	339
_____	_____	_____	_____	_____	_____	_____	_____

d) *Vynásob.*

356	245	157	412	321	238	117	132
<u>. 2</u>	<u>. 3</u>	<u>. 5</u>	<u>. 2</u>	<u>. 3</u>	<u>. 4</u>	<u>. 6</u>	<u>. 7</u>

e) *Vyřeš slovní úlohu.*

Vstupné na prohlídku hradu je pro dospělého 80 Kč, děti mají poloviční slevu. Kolik zaplatí čtyřčlenná rodina (rodiče a dvě děti)?

Zápis \_\_\_\_\_ Výpočet \_\_\_\_\_

---

---

---

---

f) *Děl se zbytkem.*

41 : 5 =	15 : 2 =	20 : 3 =	30 : 8 =
65 : 7 =	37 : 6 =	88 : 9 =	27 : 4 =

g) *Písemné dělení*

654 : 8 = _____	871 : 5 = _____	753 : 3 = _____	586 : 4 = _____
-----------------	-----------------	-----------------	-----------------



## Matematika 4. ročník – 1. čtvrtletí

a) *Sčítej a odčítej.*

286	458	185	129	973	825	731	683
<u>532</u>	<u>256</u>	<u>574</u>	<u>620</u>	- <u>513</u>	- <u>472</u>	- <u>680</u>	- <u>132</u>

b) *Vyřeš slovní úlohu.*

Maminka koupila Lindě svetr za 550 Kč a tričko za 320 Kč. Kolik korun jí zbylo, když měla 1000 Kč?

Zápis \_\_\_\_\_ Výpočet \_\_\_\_\_

---

---

---

---

c) *Zaokrouhli čísla na stovky.*

478	642	223	394	735	267	451	539
_____	_____	_____	_____	_____	_____	_____	_____

d) *Vynásob.*

346	145	257	152	261	239	128	133
<u>. 2</u>	<u>. 3</u>	<u>. 2</u>	<u>. 5</u>	<u>. 3</u>	<u>. 4</u>	<u>. 6</u>	<u>. 7</u>

e) *Vyřeš slovní úlohu.*

Vstupné na prohlídku hradu je pro dospělého 100 Kč, děti mají poloviční slevu. Kolik zaplatí čtyřčlenná rodina (rodiče a dvě děti)?

Zápis \_\_\_\_\_ Výpočet \_\_\_\_\_

---

---

---

---


f) *Děl se zbytkem.*

31 : 5 =	17 : 2 =	19 : 3 =	39 : 7 =
65 : 8 =	38 : 6 =	88 : 9 =	26 : 4 =

g) *Písemné dělení*

854 : 6 = \_\_\_\_\_ 371 : 5 = \_\_\_\_\_ 536 : 4 = \_\_\_\_\_ 754 : 3 = \_\_\_\_\_

Řešení:



- a) 898, 723, 463, 939, 260, 453, 51, 518
- b) Mamince zbylo 70 Kč.
- c) 600, 600, 100, 800, 800, 300, 500, 300
- d) 712, 735, 785, 824, 963, 952, 702, 924
- e) Celkem čtyřčlenná rodina zaplatí 240 Kč.
- f) 8(zb. 1), 9(zb. 2), 7(zb. 1), 6(zb. 1), 6(zb. 2), 9(zb. 7), 3(zb. 6), 6(zb. 3)
- g) 81 (zb.6), 174 (zb. 1), 251, 146 (zb. 2)



- a) 818, 714, 759, 749, 460, 353, 51, 551
- b) Mamince zbylo 130 Kč.
- c) 500, 600, 200, 400, 700, 300, 500, 500
- d) 692, 435, 514, 760, 783, 956, 768, 931
- e) Celkem čtyřčlenná rodina zaplatí 300 Kč.
- f) 6(zb. 1), 8(zb. 1), 8(zb. 1), 6(zb. 2), 6(zb. 1), 9(zb. 7), 5(zb. 4), 6(zb. 2)
- g) 142 (zb. 2), 74 (zb.1), 134, 251 (zb. 1)