

Název: Písemné sčítání a odčítání čísel do 10 000, zaokrouhlování

Autor: Jana Klementová

Vhodné zařazení : Matematika 4. ročník

Časová náročnost : 15 min

Datum ověření: 26.11.2012, 4.B

Metodické poznámky:

Pracovní list je vhodný pro samostatné procvičování písemného sčítání a odčítání v oboru do 10 000, zaokrouhlování čísel. Kontrolou správnosti je hledání zaokrouhleného čísla v tabulce a vybarvení danou barvou.

1/ Vypočítej příklady

1 743
3 524

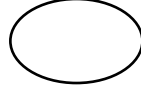
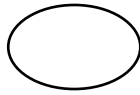
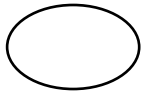
4 306
2 547

4 904
3 571

4 136
3 698

4 797
4 792

Výsledky zaokrouhli na desítky a každý zapiš do oválu



Zaokrouhlená čísla najdi v tabulce a vybarvi je zeleně.

2/ Vypočítej příklady

5 526
-1 258

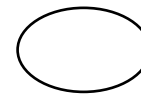
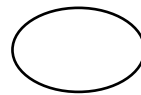
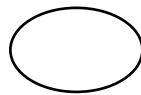
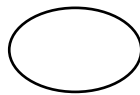
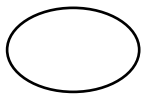
4 297
-2 561

7 162
-2 563

9 181
-1 201

6 056
-3 514

Výsledky zaokrouhli na stovky a každý zapiš do oválu



Zaokrouhlená čísla najdi v tabulce a vybarvi je modře.

3/ Vypočítej příklady

3 049
4 383

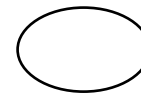
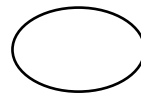
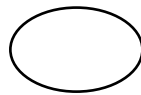
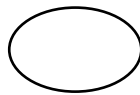
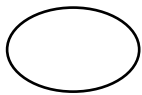
10 000
- 1 476

8 955
- 6 528

2 204
2 589

2 691
-1 234

Výsledky zaokrouhli na tisíce a každý zapiš do oválu



Zaokrouhlená čísla najdi v tabulce a vybarvi je červeně.

1 800	9 000	2 000	7 840	4 200
4 300	4 600	5 270	1 700	2 500
7 000	9 590	8 000	7 830	9 010
8 480	6 840	1 000	5 370	6 850
8 460	3 000	5 000	10 000	9 690

Řešení: 1/ Vypočítej příklady

1 743	4 306	4 904	4 136	4 797
<u>3 524</u>	<u>2 547</u>	<u>3 571</u>	<u>3 698</u>	<u>4 792</u>
5 267	6 853	8 475	7 834	9 589

Výsledky **zaokrouhli na desítky** a každý zapiš do oválu

5 270	6 850	8 480	7 830	9 590
-------	-------	-------	-------	-------

Zaokrouhlená čísla najdi v tabulce a vybarvi je **zeleně**.

2/ Vypočítej příklady

5 526	4 297	7 162	9 181	6 056
<u>-1 258</u>	<u>-2 561</u>	<u>-2 563</u>	<u>-1 201</u>	<u>-3 514</u>
4 268	1 736	4 599	7 980	2 542

Výsledky **zaokrouhli na stovky** a každý zapiš do oválu

4 300	1 700	4 600	8 000	2 500
-------	-------	-------	-------	-------

Zaokrouhlená čísla najdi v tabulce a vybarvi je **modře**.

3/ Vypočítej příklady

3 049	10 000	8 955	2 204	2 691
<u>4 383</u>	<u>- 1 476</u>	<u>- 6 528</u>	<u>2 589</u>	<u>-1 234</u>
7 432	8 524	2 427	4 793	1 457

Výsledky **zaokrouhli na tisíce** a každý zapiš do oválu

7 000	9 000	2 000	5 000	1 000
-------	-------	-------	-------	-------

Zaokrouhlená čísla najdi v tabulce a vybarvi je **červeně**.

1 800	9 000	2 000	7 840	4 200
4 300	4 600	5 270	1 700	2 500
7 000	9 590	8 000	7 830	9 010
8 480	6 840	1 000	5 370	6 850
8 460	3 000	5 000	10 000	9 690